

1年生 算数「なんばんめ」

じゅんびするもの：わくわくさんすう1（18・19ページ）

がくしゅうの すすめかた：よみながら もんだいに ついて かんがえる。

きょうは、「なんばんめ」の がくしゅうを します。

めあてを こえに だして よみましょう。

なんばんめかを かんがえよう。



① どうぶつたちが かけっこを しています。きりんは 2ばんめに つきました。

きつねは なんばんめに ついたでしょう。したの □に すうじを いれましよう。

ばんめ

なんばんめか わかりましたか？それでは いっしょに たしかめて みたいとおもいます。

まず、きつねをさがします。きつねはここにいます。

なんばんめかかぞえます。

1ばんめ 2ばんめ 3ばんめ 4ばんめ 5ばんめ

こたえは、5ばんめです。



② 6ばんめの どうぶつは なんでしょう。したの □に どうぶつの なまえを いれましょう。


どの どうぶつか わかりましたか？ いっしょに たしかめて みましょう。



せいかいは、うさぎです。

じゅんばんに、「1ばんめ、2ばんめ、3ばんめ・・・」と かぞえて いくと わかりやすいですね。




③  は みぎから なんばんめですか。

ばんめ

④ ひだりから 6ばんめは なんのマークの はたですか。




⑤  は うえから なんばんめですか。

ばんめ

⑥ したから 2ばんめの とりは なんですか。




⑦  は まえから なんばんめですか
 ばんめ

⑧ うしろから 3ばんめは なんの どうぶつですか。




いっしょに かくにん していきましょう。

③ ひだり  みぎ

5ばんめ 3ばんめ 2ばんめ 1ばんめ

4ばんめ

こたえ 5ばんめ

まず、 をさがします。つぎに、みぎから なんばんめか かぞえます。

④ ひだり  みぎ

1ばんめ 2ばんめ 3ばんめ 4ばんめ 5ばんめ 6ばんめ

こたえ たいようのはた

ひだりから じゅんばんにかぞえます。

⑤




こたえ 2ばんめ

⑥



こたえ はと

まず、 をさがしま
す。つぎに、**うえ**から か
ぞえます。

したから じゅんばんに
かぞえます。

⑦




4ばんめ

3ばんめ

2ばんめ

1ばんめ

まず、をさがします。つぎに、**まえ**から なんばんめか かぞえます。

こたえ 4ばんめ

⑧



1ばんめ

2ばんめ

3ばんめ

うしろから じゅんばんにかぞえます。

こたえ うま

もんだいを よく よんで、**どこから なんばんめか**を かんがえると わかりやすいです。

いえでも いえの なかの もので おうちのひとと なんばんめかもんだいを だしあって たのしく べんきょうするのも いいですね。がっこうでも みんなで たのしく べんきょうしましょうね。